


1 De quand date le début de la construction de la gare ?

Actuellement transformée en musée, **la gare d'Orsay** a été édifée en 1810. Sa conception est de Victor Laloux, qui masque la grande verrière à structure métallique à l'aide d'un parement de pierres très orné. Sa façade correspond à l'académisme de l'époque.


2 A quelle époque correspond ce bâtiment ?



3 Actuellement, qu'y a-t-il dans ce bâtiment ?



4 Trouve les onze erreurs.



## Le Viaduc de Garabit




**Le viaduc de Garabit** est un ouvrage ferroviaire, créé pour relier Paris à Béziers par chemin de fer, en passant par le Massif Central. Entièrement métallique, ce pont fut construit par la société Gustave Eiffel et achevé en 1884, mais la mise en service de la ligne n'eut lieu qu'en 1888. De nos jours, des trains passent encore sur ce pont.

1 En quelle matière est construit ce pont ?

2 Pourquoi est-ce un pont « ferroviaire » ?


3 De quelle époque historique date ce pont ?



4 Trouve les neuf erreurs.








**Henri de Toulouse-Lautrec** (1864-1901) est un artiste peintre, illustrateur, dessinateur du 19<sup>ème</sup> siècle. Atteint d'une maladie qui affectait le développement des os, ses jambes étaient trop courtes.


Il a réalisé de nombreuses **affiches**, dont celle-ci, pour Aristide Bruant, célèbre chanteur de l'époque, connu pour ses chansons réalistes (des chansons qui montrent la réalité).



1 Quelle était la maladie de Toulouse-Lautrec ?

2 Qui est Aristide Bruant ?


3 De quelle époque historique date cette tapisserie ?



4 Trouve les dix erreurs.

Je découvre...

# Le sacre de Napoléon, de Jacques-Louis David




**Jacques-Louis David (1748-1825)** est un peintre français, de style néoclassique (imitation des œuvres de l'Antiquité). Il fut notamment peintre officiel du Premier Empire.

« **Le sacre de Napoléon** » est une œuvre monumentale de 10 m sur 6 m. La scène se déroule le 2 décembre 1804 : au moment où le pape allait prendre la couronne, Napoléon la saisit et se la mit lui-même sur la tête. Joséphine, sa femme, reçut ensuite de lui la couronne qui la faisait impératrice des Français.

1 Qui a peint ce tableau ?

2 Quel empereur y est représenté ?

3 De quelle époque historique date-t-il ?



4 Trouve les douze erreurs.







*Vase en forme  
d'œuf avec le  
portrait du roi  
Louis-Philippe,  
1837*

La manufacture nationale de Sèvres est l'une des principales manufactures de porcelaine européenne. Elle est fondée en 1740.


Le « Bleu de Sèvres » est une couleur caractéristique de la manufacture. Au 19<sup>ème</sup> siècle, Ambroise Milet fait construire six grands fours à bois, qui donnent aux émaux une qualité exceptionnelle.



1 Quelle est la couleur caractéristique de Sèvres ?

2 Qui fait construire les grands fours à bois ?


3 De quelle époque historique date ce vase ?



4 Trouve les dix erreurs.

Je découvre...

# Un dimanche après-midi à l'île de la Grande Jatte, de Seurat



**Georges-Pierre Seurat** (1859-1891) est un peintre français, pionnier du pointillisme (procédé qui consiste à peindre par juxtapositions de petites touches de couleurs primaires et complémentaires).


Pour ce tableau, il réalisa 23 dessins préparatoires et 38 croquis !

Ce tableau mesure 201 cm sur 300 cm et a été réalisé en 1885.


1 Quel est le procédé qu'utilise Seurat ?

2 Quelle est la taille de ce tableau ?

3 De quelle époque historique date ce tableau ?



4 Trouve les treize erreurs.





## Les singes farceurs, du Douanier Rousseau




Henri Julien Félix Rousseau, dit **le Douanier Rousseau** (1844-1910) est un peintre français, considéré comme représentatif des peintres naïfs. L'art naïf désigne un style ne respectant pas les règles de la perspective sur les dimensions, ou l'intensité de la couleur.

Même s'il n'a pratiquement jamais quitté Paris, le Douanier Rousseau a beaucoup peint des paysages exotiques. Les plantes sont très développées et parfois inventées.

1 Comment peut-on qualifier le Douanier Rousseau?

2 Quels sont les animaux représentés ici ? (Il les a peints d'après ceux qu'il voyait au zoo du Jardin d'Acclimatation de Paris).

3 De quelle époque historique date ce tableau?



4 Trouve les onze erreurs.




1 De quand date le début de la construction de la gare ?

1810


3 Actuellement, qu'y a-t-il dans ce Bâtiment ?

un musée

2 A quelle époque correspond ce bâtiment ?



4 Trouve les onze erreurs.






1 En quelle matière est construit ce pont ?

*Il est entièrement en métal.*


2 Pourquoi est-ce un pont « ferroviaire » ?

*parce qu'il est destiné au passage des trains.*

3 De quelle époque historique date ce pont ?



4 Trouve les neuf erreurs.




1 Quelle était la maladie de Toulouse-Lautrec ?

une maladie des os qui l'empêchait de grandir


2 Qui est Aristide Bruant ?

un chanteur

3 De quelle époque historique date cette affiche ?



4 Trouve les dix erreurs.





# Je découvre... Le sacre de Napoléon, de Jacques-Louis David




1 Qui a peint ce tableau ?

Jacques-Louis David


2 Quel empereur y est représenté ?

Napoléon 1<sup>er</sup>

3 De quelle époque historique date-t-il ?



4 Trouve les douze erreurs.




- 1 Quelle est la couleur caractéristique de Sèvres ?

*Ambroise Milet*

- 2 Qui fait construire les grands fours à bois ?

*le bleu de Sèvres*

- 3 De quelle époque historique date ce vase ?



- 4 Trouve les dix erreurs.






1 Quel est le procédé qu'utilise Seurat ?

le pointillisme

2 Quelle est la taille de ce tableau ?

201 cm sur 300 cm

3 De quelle époque historique date ce tableau ?



4 Trouve les treize erreurs.




1 Comment peut-on qualifier le Douanier Rousseau?

de peintre naïf

2 Quels sont les animaux représentés ici ? (Il les a peints d'après ceux qu'il voyait au zoo du Jardin d'Acclimatation de Paris).

des singes

3 De quelle époque historique date ce tableau?



4 Trouve les onze erreurs.

