

Prénom : _____

Date : ____ / ____ / ____

Signature des parents : _____



Evaluation de Géographie ★ CE2

Les frontières et le relief de la France

Soin, présentation

www.linbazar.fr

- Capacités et connaissances :
- Situer la France métropolitaine en Europe. ○
 - Connaitre les principaux caractères du relief en France. ○

Connaître les frontières de la France ●

1 Sur la carte, repasse les frontières maritimes de la France en bleu et les frontières terrestres en marron.

2 Trace une flèche entre le nom des pays limitrophes de la France et leur emplacement sur la carte.

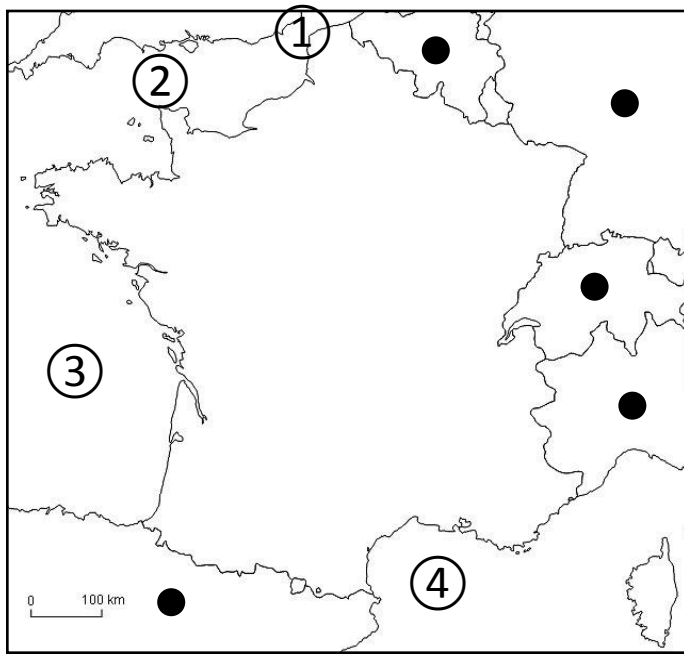
Allemagne

Suisse

Belgique

Espagne

Italie

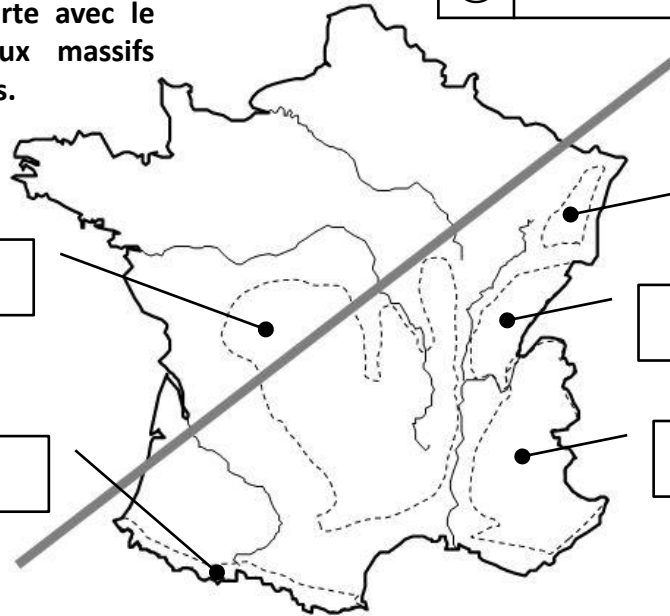


①	
②	
③	
④	

3 Complète le tableau avec le nom des mers et océan correspondant aux numéros sur la carte.

Connaître les montagnes françaises ●

4 Complète la carte avec le nom des principaux massifs montagneux français.



5 Complète.

La ligne qui est tracée sur la carte sépare la France en deux :

- Au Nord et à l' _____, c'est la France des _____.
- Au Sud et à l' _____, c'est la France des _____.

6 Relie ce qui va ensemble.

Montagnes
anciennes ●

● Sommets pointus ●

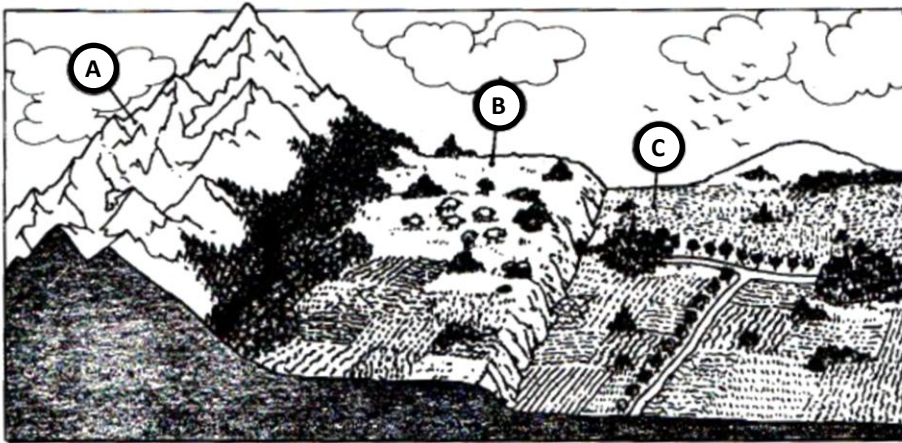


Montagnes
jeunes ●

● Sommets arrondis ●



7 Écris dans les cadres les noms correspondants aux lettres.



A	
B	
C	

8 Indique la bonne lettre devant chaque définition en t'aidant du schéma précédent.

- étendue plane de faible altitude
- étendue plane d'altitude plus élevée que la plaine
- relief de grande ou moyenne altitude

9 Indique la bonne lettre devant chaque photographie en t'aidant du schéma précédent.

