

Prénom : _____

Date : ___ / ___ / ___

Signature des parents : _____

Evaluation de sciences ★ CE1 / CE2

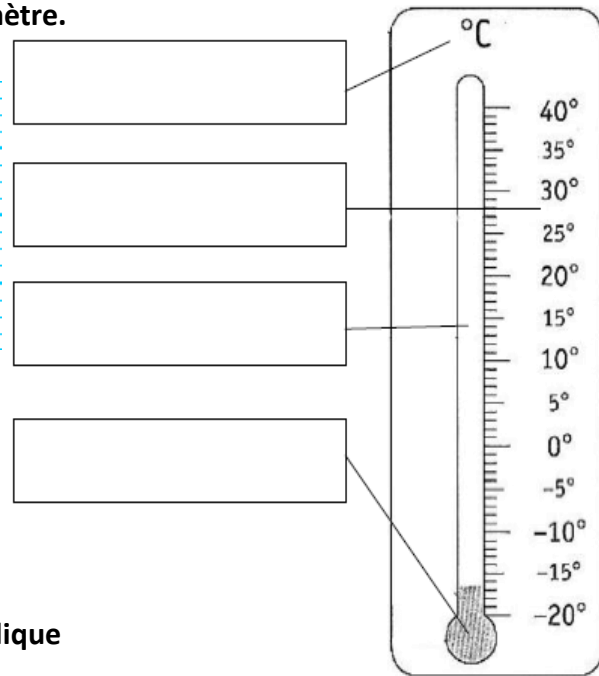
Le thermomètre




- Connaitre le fonctionnement du thermomètre.
- Savoir utiliser un thermomètre.

1 Complète la définition et le schéma du thermomètre.

Le thermomètre est un appareil
qui sert à
précisément la _____.



2 Relie chaque thermomètre à son nom et indique quelle température il mesure.



•

• thermomètre mural




•

• thermomètre de bain



•

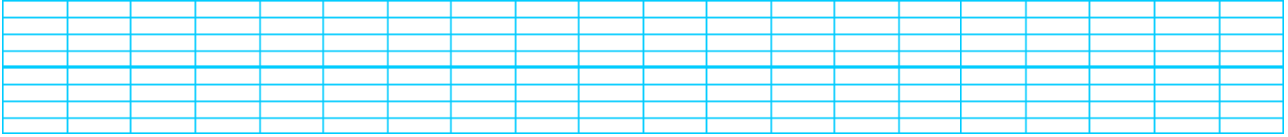
• thermomètre médical



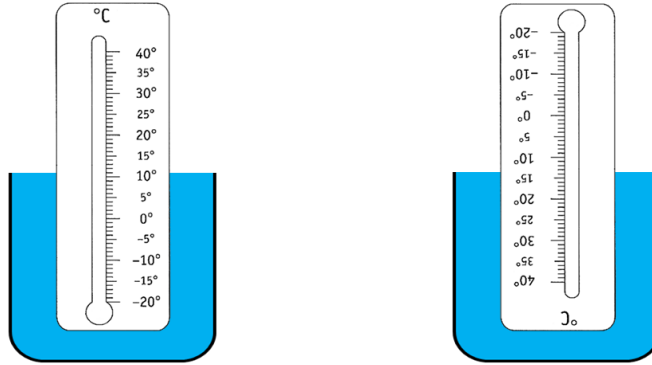
3 Complète ces phrases.

Lorsqu'il fait _____, le liquide descend dans le tube.
Lorsqu'il fait _____, le liquide monte dans le tube.

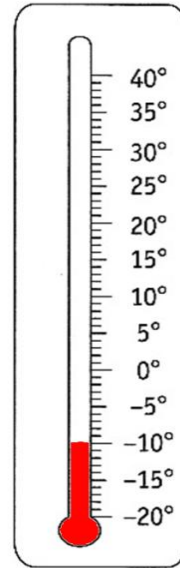
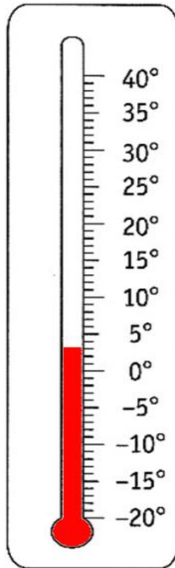
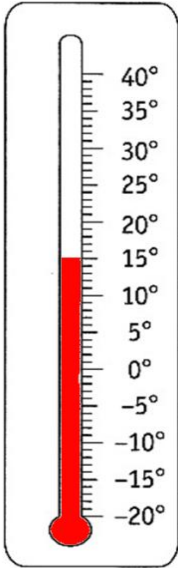
4 Si on veut faire changer le niveau du liquide dans le tube :
Quelle partie du thermomètre faut-il chauffer ou refroidir ?



5 Entoure le schéma de l'expérience dans laquelle le thermomètre est dans la bonne position.



6 Ecris la température indiquée par chaque thermomètre.



7 Colorie le liquide dans les thermomètres selon les températures indiquées.

