

Nom :

CALCUL MENTAL : Relations entre les nombres

Date :

Doubles et moitiés



Le double c'est deux fois plus.
La moitié, c'est deux fois moins.

1. Complète.

Le double de ___ est

Le double de ___ est

Le double de ___ est

Le double de ___ est

Le double de ___ est

Le double de ___ est

Le double de ___ est

Le double de ___ est

Le double de ___ est

Le double de ___ est

Le double de ___ est

Le double de ___ est

2. Colorie les nombres lorsque tu sais trouver leur moitié.

___	___	___	___	___	___	___	___	___	___
-----	-----	-----	-----	-----	-----	-----	-----	-----	-----

3. Complète.

La moitié de ___ est

La moitié de ___ est

La moitié de ___ est

La moitié de ___ est

La moitié de ___ est

La moitié de ___ est

La moitié de ___ est

La moitié de ___ est

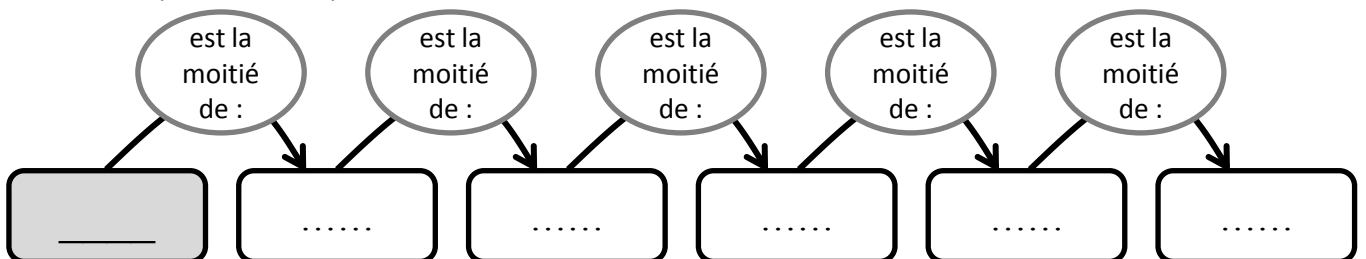
La moitié de ___ est

La moitié de ___ est

La moitié de ___ est

La moitié de ___ est

4. Complète la piste en suivant les indications des bulles.



Nom :

CALCUL MENTAL : Relations entre les nombres

Date :

Triples et tiers



Le triple c'est trois fois plus.
Le tiers, c'est trois fois moins.

1. Complète.

Le triple de ___ est

Le triple de ___ est

Le triple de ___ est

Le triple de ___ est

Le triple de ___ est

Le triple de ___ est

Le triple de ___ est

Le triple de ___ est

Le triple de ___ est

Le triple de ___ est

Le triple de ___ est

Le triple de ___ est

2. Colorie les nombres qui sont dans la table de 3.

___	___	___	___	___	___	___	___	___	___
-----	-----	-----	-----	-----	-----	-----	-----	-----	-----

3. Complète.

Le tiers de ___ est

Le tiers de ___ est

Le tiers de ___ est

Le tiers de ___ est

Le tiers de ___ est

Le tiers de ___ est

Le tiers de ___ est

Le tiers de ___ est

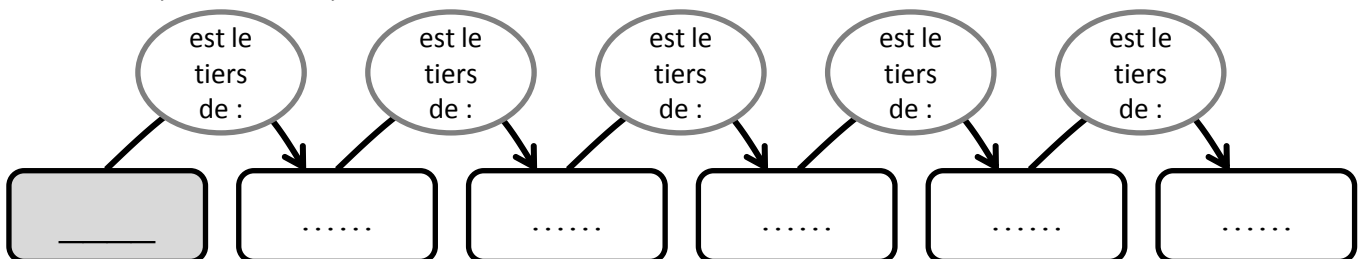
Le tiers de ___ est

Le tiers de ___ est

Le tiers de ___ est

Le tiers de ___ est

4. Complète la piste en suivant les indications des bulles.



Nom :

CALCUL MENTAL : Relations entre les nombres

Date :

Quadruples et quarts



Le quadruple c'est quatre fois plus.
Le quart, c'est quatre fois moins.

1. Complète.

Le quadruple de ___ est	Le quadruple de ___ est	Le quadruple de ___ est
Le quadruple de ___ est	Le quadruple de ___ est	Le quadruple de ___ est
Le quadruple de ___ est	Le quadruple de ___ est	Le quadruple de ___ est
Le quadruple de ___ est	Le quadruple de ___ est	Le quadruple de ___ est

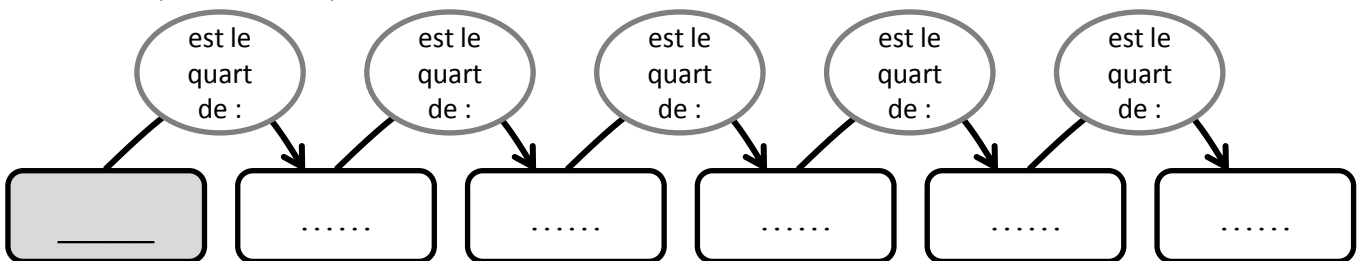
2. Colorie les nombres qui sont dans la table de 4.

___	___	___	___	___	___	___	___	___	___
-----	-----	-----	-----	-----	-----	-----	-----	-----	-----

3. Complète.

Le quart de ___ est	Le quart de ___ est	Le quart de ___ est
Le quart de ___ est	Le quart de ___ est	Le quart de ___ est
Le quart de ___ est	Le quart de ___ est	Le quart de ___ est
Le quart de ___ est	Le quart de ___ est	Le quart de ___ est

4. Complète la piste en suivant les indications des bulles.



Nom :

CALCUL MENTAL :
Relations entre les nombres

Date :

Doubles et moitiés / Triples et tiers / Quadruples et quarts

1. Complète.

Le double de ___ est

Le double de ___ est

La moitié de ___ est

Le double de ___ est

Le double de ___ est

La moitié de ___ est

Le double de ___ est

La moitié de ___ est

La moitié de ___ est

2. Complète.

Le triple de ___ est

Le triple de ___ est

Le tiers de ___ est

Le triple de ___ est

Le triple de ___ est

Le tiers de ___ est

Le triple de ___ est

Le tiers de ___ est

Le tiers de ___ est

3. Complète.

Le quadruple de ___ est

Le quadruple de ___ est

Le quart de ___ est

Le quadruple de ___ est

Le quadruple de ___ est

Le quart de ___ est

Le quadruple de ___ est

Le quart de ___ est

Le quart de ___ est

4. Complète la piste en suivant les indications des bulles.

