







**1. Numérote dans l'ordre chronologique les étapes de la vie de Margot.**

<p>Margot attend son premier enfant.</p>  <input data-bbox="657 645 774 757" type="radio"/>	<p>Margot va à l'école.</p>  <input data-bbox="1332 645 1449 757" type="radio"/>
<p>Margot se marie.</p>  <input data-bbox="657 1120 774 1232" type="radio"/>	<p>Margot a dix mois.</p>  <input data-bbox="1332 1120 1449 1232" type="radio"/>
<p>Margot a deux enfants.</p>  <input data-bbox="657 1590 774 1702" type="radio"/>	<p>Margot a soixante-douze ans.</p>  <input data-bbox="1332 1590 1449 1702" type="radio"/>

**2. Margot est née en 1939. Observe :**

En quelle année a-t-elle fêté ses 10 ans ?

Pour le savoir je pose l'opération :

$$1\ 939 + 10 = 1\ 949$$

(J'ajoute 1 dizaine d'années.)

**À toi maintenant !**

Calcule en quelle année Margot a fêté ses 50 ans :

Margot a eu cinquante ans en .....