



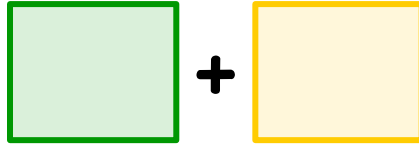
Le nombre mystère

Aujourd'hui, nous sommes le : ___ / ___ / 20__

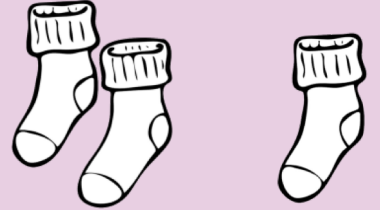
J'écris le nombre en chiffres :

d	u

Je décompose le nombre :



C'est un nombre :




pair

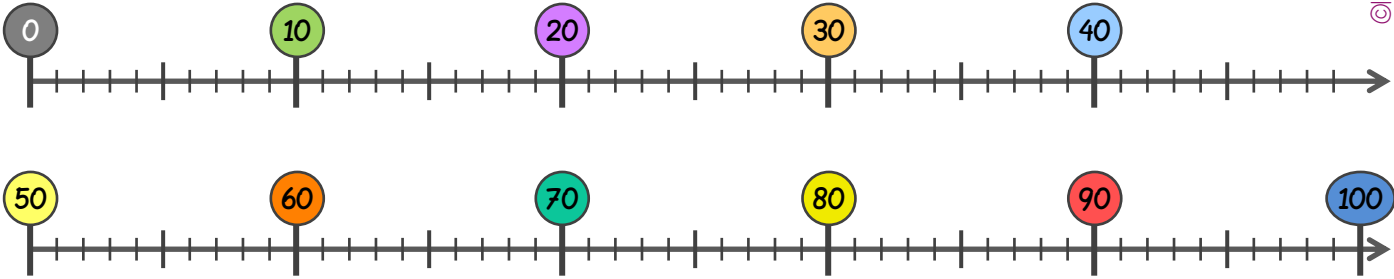
impair

Si le nombre est pair, je calcule sa moitié.

J'écris le nombre en lettres :



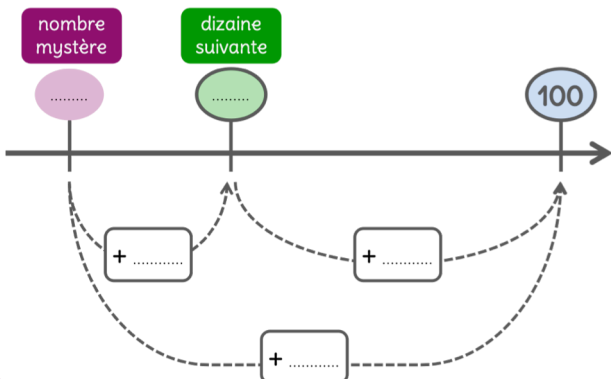
Je place le nombre sur la droite graduée :



J'encadre le nombre :



Je calcule le complément à 100 :



Dans la tirelire, il y a :



Je dessine la somme avec le moins de pièces et de billets possible.